

## به نام خدا

### آزمون ریاضی پایه ی چهارم دبستان

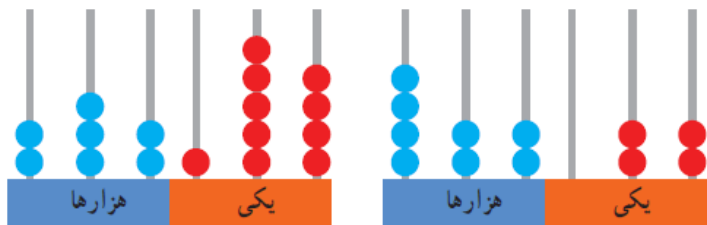
شماره دانش آموز:

تاریخ:

مدرسه:

نام و نام خانوادگی:

۱- عددی را که هر شکل نشان می دهد ، بنویسید.



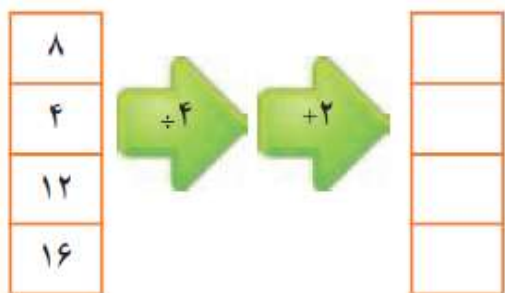
.....

.....

۲- عدد ۱۲۴۰۰۰۰ چند رقمی است؟ ..... رقم یکان هزار آن چند است؟.....

۳- عدد یک میلیون و سیصد هزار و دویست و بیست و یک را با رقم بنویسید. ....

۴- جاهای خالی را پر کنید.



۵- عددهای زیر را با هم مقایسه کنید.

۳۲۰۰۵۶

۳۲۰۰۵۷

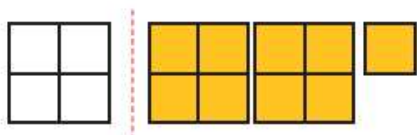
۷۹۵۶

۸۹۵۶

۷۸۹

۷۸۴

۶- با توجه به واحد داده شده ، عدد مخلوط مربوط به هر شکل را بنویسید.



## به نام خدا

### آزمون ریاضی پایه ی چهارم دبستان

شماره دانش آموز:

تاریخ:

مدرسه:

نام و نام خانوادگی:

۷- جمع یا تفریق مربوط به محورهای زیر را بنویسید.



۸- احمد و محمود  $\frac{5}{6}$  دیوار یک اتاق را رنگ کرده اند.  $\frac{2}{6}$  از آن را احمد رنگ کرده است. چه کسری از دیوار اتاق را محمود رنگ کرده است؟

۹- در جاهای خالی عدد مناسب بنویسید تا کسرها با هم برابر شود.

$$\frac{12}{20} = \frac{3}{\square}$$

$$\frac{5}{\square} = \frac{35}{42}$$

۱۰- جدول زیر را کامل کنید.

عدد	با تقریب هزارگان	با تقریب دهگان
۲۱۳۴۶		
۹۷۸		

$$56 \overline{) 7}$$

۱۱- حاصل تقسیم زیر را پیدا کنید و رابطه ی آن را بنویسید.

۱۲- حاصل ضرب های زیر را بنویسید.

$$350 \times 100 =$$

$$625 \times 800 =$$

$$15 \times 12 =$$