

به نام خداوند خورشید و ماه که دل را به نامش خرد داد راه

آزمون ریاضی پایه ششم دبستان (اعداد اعشاری)

شماره دانش آموز:

تاریخ:

مدرسه:

نام و نام خانوادگی:

۱- عددهای اعشاری زیر را با حروف بنویسید.

$$۱۴/۲۷$$

$$۵۰/۰۵$$

$$۳۵/۷$$

$$۳/۰۴۵$$

۲- کسرهای زیر را به صورت عدد اعشاری بنویسید.

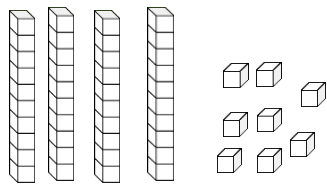
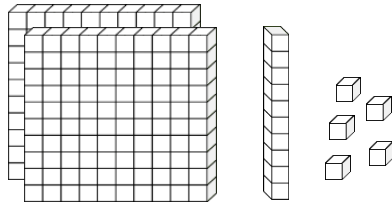
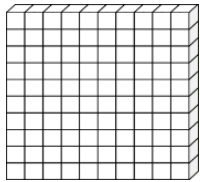
$$\frac{۲۳}{۱۰} =$$

$$\frac{۴۵}{۱۰۰} =$$

$$\frac{۳۲۴}{۱۰۰۰} =$$

$$\frac{۲۳۹}{۲۵} =$$

۳- با توجه به واحد داده شده، برای هر شکل یک کسر و یک عدد اعشاری بنویسید.



۴- عددهای اعشاری و کسری زیر را به صورت گسترده بنویسید.

$$\frac{۳۱۲}{۱۰۰} =$$

$$۱۴/۹۸۳ =$$

۵- در جاهای خالی علامت مناسب < = > بگذارید.

$$۳/۲ \bigcirc ۳/۲۱$$

$$۰/۰۰۷ \bigcirc ۰/۰۷$$

$$۵/۳۰ \bigcirc ۵/۳$$

$$۳۵/۱۲۳ \bigcirc ۳۵ \frac{۱}{۲}$$

$$۰/۷ \bigcirc \frac{۳}{۵}$$

$$۴ \frac{۱}{۲} \bigcirc ۳/۰۵$$

۶- نقطه‌های مشخص شده روی محور را با یک کسر و یک عدد اعشاری بیان کنید.

