

به نام خداوند خورشید و ماه که دل را به نامش خرد داد راه

(ساخت کسرها)

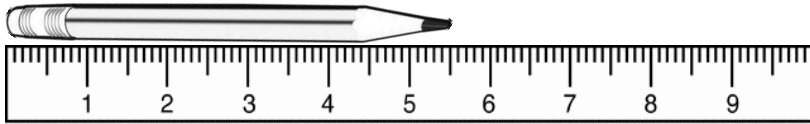
شماره دانش آموز:

تاریخ:

مدرسه:

نام و نام خانوادگی:

۱- با توجه به اندازه ی مداد ، جاهای خالی را کامل کنید.



اندازه ی مداد سانتی متر و میلی متر است. اندازه ی مداد میلی متر است.

طول مداد سانتی متر و از سانتی متر است. طول مداد به عدد مخلوط سانتی متر است.

۲- روی محورهای زیر اعداد خواسته شده را نشان دهید.

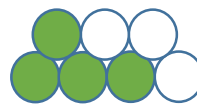
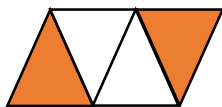


$\frac{3}{4}$ واحد بعد از عدد ۲



$\frac{2}{3}$ واحد مانده به ۴

۳- چه کسری از شکل های زیر رنگ شده است؟



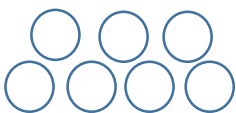
.....

.....

.....

.....

۴- شکل ها را با توجه به کسر داده شده رنگ کنید.

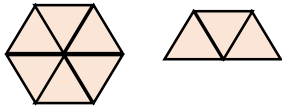
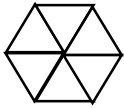

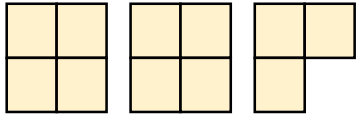
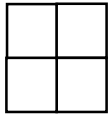
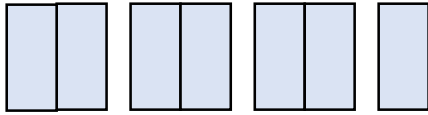
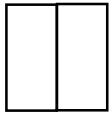


$\frac{4}{7}$

$\frac{5}{8}$

$\frac{2}{5}$

۵- با توجه به واحد داده شده ، عدد مخلوط مربوط به هر شکل را بنویسید.



۶- احمد ۱۲۰۰ تومان پول داشت و نصف آن را خرج کرد. رضا ۲۰۰۰ تومان پول داشت و نصف آن را خرج کرد.

کدام جمله ها در مورد پول احمد و رضا درست و کدام نادرست است؟ دلیل آن را بنویسید.

الف) رضا $\frac{1}{3}$ پولش را خرج کرده است.

ب) احمد از رضا کم تر پول خرج کرده است.

ج) $\frac{1}{3}$ پول احمد و $\frac{1}{3}$ پول رضا ، با هم مساوی است.

د) مقدار پولی که احمد و رضا خرج کرده اند، برابر است.

ه) نصف پول رضا از $\frac{1}{3}$ پول احمد بیشتر است.

نظر ولی دانش آموز:

نظر آموزگار:

نیاز به تلاش بیشتر

قابل قبول

خوب

خیلی خوب